

藍田循道衛理小學  
一年級數學科暑期工作紙

姓名：\_\_\_\_\_ ( )

班別：1 年級\_\_\_\_\_ 班

日期：\_\_\_\_\_

1. 順序用阿拉伯數字及中國數字寫出 1-10。

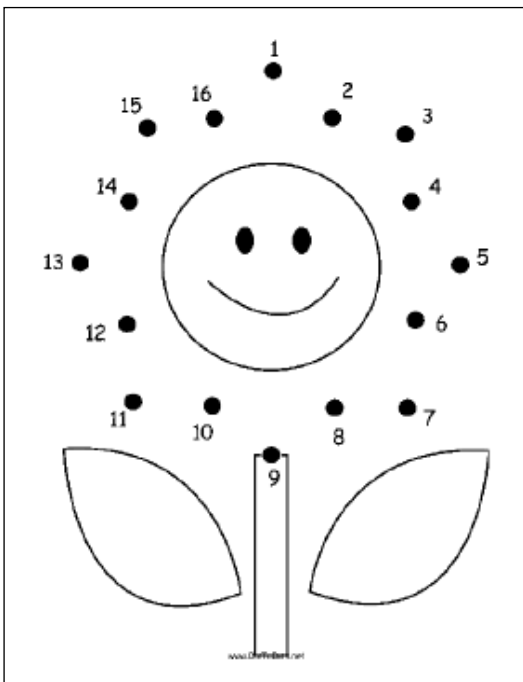
阿拉伯 數字	1				5					
中國 數字	一									十

2. 由 1 開始順數連線。




家長小貼士：  
與小朋友練習數數順數和倒數。

3. 由 16 開始倒數連線。



藍田循道衛理小學  
一年級數學科暑期工作紙

4. 數一數，把正確的數目填在橫線上。





- a. 上圖有羊 \_\_\_\_\_ 隻。
- b. 上圖有花 \_\_\_\_\_ 朵。
- c. 上圖有樹 \_\_\_\_\_ 棵。
- d. 上圖有蝴蝶 \_\_\_\_\_ 隻。


家長小貼士：  
教授小朋友數數的技巧，例  
如：數一隻劃去一隻，避免  
錯誤數算。



5. 數數填填。

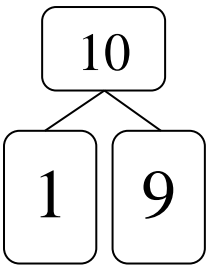
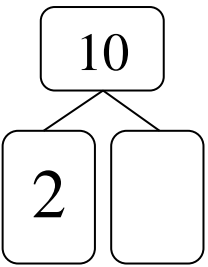
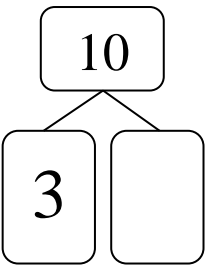
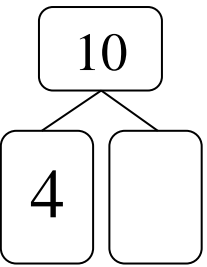
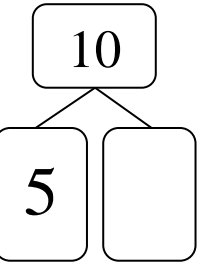
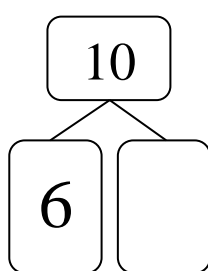
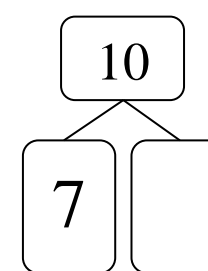
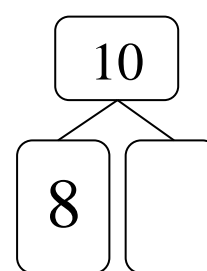
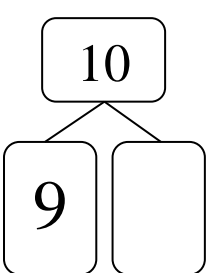
a.  ( ) + ( ) = ( )

b.  ( ) + ( ) = ( )

c.  ( ) - ( ) = ( )

6. 以下數字與哪個數字合起來的總數是十？請填在空格內。

例



家長小貼士：  
小朋友記認十的組合，有助  
他們學習加法和減法。


7. 由左面數起，把第2個△填上顏色。









8. 由右面數起，把第3個☆填上顏色。




9. 依據圖意，圈出正確的答案。



c.  的右面是\* (  /  /  )

b.  在  的\*( 左 / 右 / 前 / 後 )面。

c.  在  的\*( 前 / 後 / 上 / 下 )面。



家長小貼士：  
教導小朋友辨認位置，如上、下、  
左、右、前及後。

請圈出正確的答案。

10.



比



\*( 高 / 矮 )。

11.



比



\*( 長 / 短 )。

12.



小玲




小美



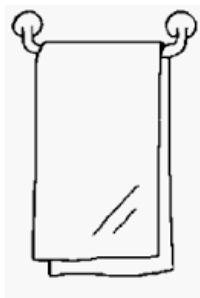
小卓

小玲與小美 較 小卓與小美 \*( 遠 / 近 )。

13.



比



\*( 闊 / 窄 )。



家長小貼士：  
與小朋友認識長度及比較的概念，  
例如：高和矮、長和短、遠和近、  
闊和窄。


藍田循道衛理小學  
一年級數學科暑期工作紙

14. 在以下空格畫出一條指定的線段。

a. 直線




b. 曲線




15. 畫出兩個你認識的平面圖形，並寫上它的名稱。

a.



名稱：\_\_\_\_\_

b.



名稱：\_\_\_\_\_



家長小貼士：  
指導小朋友如何使用直尺。